

# Original Sequence As per Manuscript

41

SET

Subject Code

20462-YKIWZ-JRKJ-ENT-E

Question Booklet No.

परीक्षा केन्द्राध्यक्ष की मोहर  
Seal of Superintendent of Examination Centre

परीक्षार्थी द्वारा बॉल-प्वाइंट पेन से भरा जाए  
To Be filled in by Candidate by Ball-Point pen only  
घोषणा : मैंने नीचे दिये गये निर्देश अच्छी तरह  
पढ़कर समझ लिए हैं। Declaration : I have read  
and understood the instructions given below.  
अनुक्रमांक / Roll No.

Paste barcode sticker  
containing  
question booklet no here  
यहां प्रश्न पुस्तिका क्रमांक वाला  
बारकोड स्टीकर चिपकाएं

वीक्षक के हस्ताक्षर  
(Signature of Invigilator) -----  
वीक्षक के नाम  
(Name of Invigilator) -----

अभ्यर्थी के हस्ताक्षर  
(Signature of Candidate) -----  
उत्तर शीट का क्रमांक  
Sl. No. of Answer-Sheet  
अभ्यर्थी का नाम  
(Name of Candidate) -----

प्रश्न पुस्तिका में पृष्ठों की संख्या

पूर्णांक - 100

प्रश्न पुस्तिका में प्रश्नों की संख्या

Number of Pages in this Question Booklet : 48

समय - 02 घंटे

Number of Questions in this Question Booklet : 100

अभ्यर्थियों के लिए निर्देश

1. प्रश्न-पुस्तिका मिलते ही मुख पृष्ठ एवं अंतिम पृष्ठ में दिए गए निर्देशों को अच्छी तरह पढ़ लें। प्रश्न पुस्तिका में लगी सील को वीक्षक के कहने से पूर्व न खोलें।
2. ऊपर दिए हुए निर्धारित स्थानों में अपना अनुक्रमांक, उत्तर-पुस्तिका का क्रमांक लिखें तथा अपने हस्ताक्षर करें।
3. ओ.एम.आर. उत्तर-शीट में समस्त प्रविष्टियां दिये गये निर्देशानुसार करें अन्यथा उत्तर-शीट का मूल्यांकन नहीं किया जाएगा।
4. इस प्रश्न पुस्तिका के साथ तीन बारकोड स्टीकर दिये जा रहे हैं। इन बारकोडों को प्रश्न पुस्तिका, ओ.एम.आर. शीट एवं उपस्थिति पत्रक में दिये गये निर्धारित बॉक्स के अंदर सावधानीपूर्वक चिपकायें।
5. सील खोलने के बाद सुनिश्चित कर लें कि प्रश्न-पुस्तिका में कुल पृष्ठ ऊपर लिखे अनुसार दिए हुए हैं तथा उसमें सभी 100 प्रश्नों का मुद्रण सही है। किसी भी प्रकार की त्रुटि होने पर 15 मिनट के अंदर वीक्षक को सूचित कर सही प्रश्न-पुस्तिका प्राप्त करें।
6. प्रत्येक प्रश्न हेतु प्रश्न-पुस्तिका में प्रश्न के नीचे दिए गए चार विकल्पों में से सही/सबसे उपयुक्त केवल एक ही विकल्प का चयन कर उत्तर शीट में सही विकल्प वाले गोले को जो उस प्रश्न के सरल क्रमांक से सम्बंधित हो काले या नीले बॉल-प्वाइंट पेन से भरें।
7. सही उत्तर वाले गोले को अच्छी तरह से भरें, अन्यथा उत्तरों का मूल्यांकन नहीं होगा। इसकी समस्त जिम्मेदारी परीक्षार्थी की होगी।
8. प्रश्न-पुस्तिका में 100 वस्तुनिष्ठ प्रश्न दिए गए हैं। प्रत्येक प्रश्न के लिए 01 अंक निर्धारित है। सभी प्रश्न अनिवार्य हैं।
9. ऋणात्मक मूल्यांकन नहीं किया जावेगा।
10. प्रश्न-पुस्तिका तथा उत्तर-शीट में निर्दिष्ट स्थानों पर प्रविष्टियां भरने के अतिरिक्त कहीं भी कुछ न लिखें। अन्यथा OMR शीट का मूल्यांकन नहीं किया जायेगा।
11. परीक्षा समाप्ति के उपरान्त केवल ओ.एम.आर. उत्तर-शीट एवं प्रश्न पुस्तिका की कवर पेज वीक्षक को सौंपनी है। उत्तर-शीट की कार्बन कॉपी तथा प्रश्न-पुस्तिका परीक्षार्थी अपने साथ ले जा सकते हैं।
12. यदि हिन्दी / अंग्रेजी भाषा में कोई संदेह है तो अंग्रेजी भाषा को ही प्रामाणिक माना जायेगा।
13. इस प्रश्न पुस्तिका में समाहित भाग/विषयों की विस्तृत जानकारी अंतिम पृष्ठ पर है :-

INSTRUCTION TO CANDIDATES

1. Immediately after getting the booklet read instructions carefully, mentioned on the front and back page of the question booklet and do not open the seal given on the question booklet, unless asked by the invigilator.
2. Write your Roll No., Answer Sheet No., in the specified places given above and put your signature.
3. Make all entries in the OMR Answer Sheet as per the given instructions otherwise Answer-Sheet will not be evaluated.
4. Along with this question booklet three barcode stickers are provided. Paste them carefully at the space provided at this question booklet, OMR sheet and attendance sheet.
5. After Opening the seal, ensure that the Question booklet contains total no. of pages as mentioned above and printing of all the 100 questions is proper. If any discrepancy is found, inform the invigilator within 15 minutes and get the correct booklet.
6. While answering the question from the question Booklet, for each question choose the correct/most appropriate option out of four options given, as answer and darken the circle provided against that option in the OMR Answer sheet, bearing the same serial number of the question. Darken the circle only with Black or Blue ball point pen.
7. Darken the circle of correct answer properly otherwise answers will not be evaluated. The candidate will be fully responsible for it.
8. There are 100 objective type questions in this question booklet. All questions are compulsory and carry 01 mark each.
9. No negative marking will be done.
10. Do not write anything anywhere in the Question booklet and the Answer-Sheet except making entries in the specified places otherwise OMR sheet will not be evaluated.
11. After completion of the examination, only OMR Answer Sheet and cover page of question booklet is to be handed over to the invigilator. Carbon copy of the Answer-Sheet and Question Booklet may be taken away by the examinee.
12. In case of any ambiguity in Hindi / English version the English version shall be considered authentic.
13. Details about Parts/Subject containing in this Question paper are given on the last page.

20462-YKIWZ-JRKJ-ENT-E

41 Set

**Original Sequence As per Manuscript**

**SPACE FOR ROUGH WORK / रफ कार्य के लिये जगह**

---

**SPACE FOR ROUGH WORK / रफ कार्य के लिये जगह**




## Original Sequence As per Manuscript

### PART - I

#### General Mental Eligibility

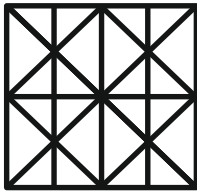
#### सामान्य मानसिक योग्यता

1. Find the number of triangles in the given figure.




- A. 28  
B. 32  
C. 36  
D. 40

2. Find the minimum number of straight lines required to make the given figure.



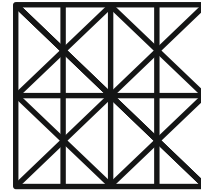
- A. 11  
B. 14  
C. 16  
D. 17

1. दिए गए चित्र में त्रिभुजों की संख्या ज्ञात कीजिए।



- A. 28  
B. 32  
C. 36  
D. 40

2. दी गई आकृति बनाने के लिए न्यूनतम सीधी रेखाओं की संख्या ज्ञात कीजिये।



- A. 11  
B. 14  
C. 16  
D. 17

---

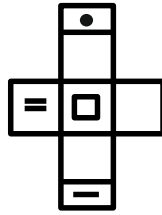
SPACE FOR ROUGH WORK / रफ कार्य के लिये जगह

## Original Sequence As per Manuscript

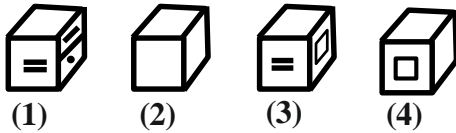
3. A dice is numbered from 1 to 6 in different ways, such that 1 is adjacent to 2, 4 and 6, then which of the following statement is necessarily true?

- A. 2 is opposite to 6  
 B. 1 is adjacent to 3  
 C. 3 is adjacent to 5  
 D. 3 is opposite to 5

4. Out of boxes 1, 2, 3 and 4 (given below) Choose the boxes that can be formed from the given sheet of paper (A).



(A)

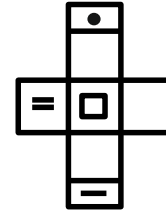


- A. (1), (2) and (3)  
 B. (1), (3) and (4)  
 C. (2) and (3)  
 D. (2), (3) and (4)

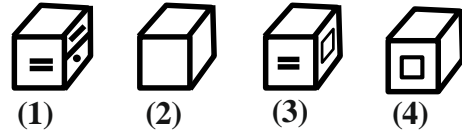
3. एक पासे को 1 से 6 तक विभिन्न तरीकों से क्रमांकित किया जाता है, जिसमें 1 अंक, 2, 4 और 6 के आसन्न है, तो निम्नलिखित में से कौन सा कथन आवश्यक रूप से सत्य है?

- A. 2, 6 के विपरीत है  
 B. 1, 3 के आसन्न है  
 C. 3, 5 के आसन्न है  
 D. 3, 5 के विपरीत है

4. नीचे दिए गए बक्से 1, 2, 3 और 4 में से, उन बक्सों का चयन करें जिन्हें कागज की दी गई शीट (A) से बनाया जा सकता है।



(A)



- A. (1), (2) और (3)  
 B. (1), (3) और (4)  
 C. (2) और (3)  
 D. (2), (3) और (4)

SPACE FOR ROUGH WORK / रफ कार्य के लिये जगह

## Original Sequence As per Manuscript

5. Find the missing number  
3131 : 9800030 :: 3 : -----  
A. 6  
B. 66  
C. 666  
D. 9

6. CLRTBQSMAPDINFJKG  
Y X  
Three of the following four are alike  
in a certain way and so form a group.  
Which is the one that does not belong  
to the group?  
(I) LBT (II) IJF  
(III) PID (IV) BMS  
A. (I)  
B. (II)  
C. (III)  
D. (IV)

5. लुप्त संख्या ज्ञात कीजिए।  
3131 : 9800030 :: 3 : -----  
A. 6  
B. 66  
C. 666  
D. 9

6. CLRTBQSMAPDINFJKG  
Y X  
निम्नलिखित चार में से तीन एक निश्चित तरीके से  
समान हैं और इसलिए एक समूह बनाते हैं। वह  
कौन सा है जो समूह से संबंधित नहीं है?  
(I) LBT (II) IJF  
(III) PID (IV) BMS  
A. (I)  
B. (II)  
C. (III)  
D. (IV)

---

SPACE FOR ROUGH WORK / रफ कार्य के लिये जगह

## Original Sequence As per Manuscript

7. In a family of six members A, B, C, D, E and F,  
A and B are a married couple.  
A is a male member.  
D is the only son of C, who (C) is the brother of A.  
E is the sister of D.  
B is the daughter-in-law of F, whose husband has died  
How E is related to C?
- A. Sister  
B. Daughter  
C. Grandmother  
D. Mother
8. Look at this series-  
664, 332, 340, 170, -----, 89  
Find the missing number.
- A. 85  
B. 97  
C. 109  
D. 178
9. Find the missing number in the series.  
4, 18, ?, 100, 180, 294, 448
- A. 48  
B. 50  
C. 58  
D. 60

7. छह सदस्यों A, B, C, D, E और F के एक परिवार में,  
A और B एक विवाहित जोड़े हैं।  
A एक पुरुष सदस्य है।  
D, C का इकलौता पुत्र है, जो (C) A का भाई है।  
E, D की बहन है।  
B, F की बहू है, जिसके पति की मृत्यु हो चुकी है।  
E, C से किस प्रकार संबंधित है?
- A. बहन  
B. बेटी  
C. दादी  
D. माँ
8. इस श्रृंखला को देखें-  
664, 332, 340, 170, -----, 89  
लुप्त संख्या ज्ञात कीजिये
- A. 85  
B. 97  
C. 109  
D. 178
9. श्रृंखला में लुप्त संख्या ज्ञात कीजिए।  
4, 18, ?, 100, 180, 294, 448
- A. 48  
B. 50  
C. 58  
D. 60

---

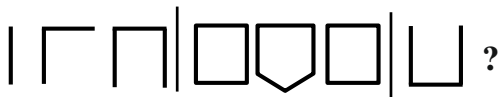
SPACE FOR ROUGH WORK / रफ कार्य के लिये जगह

## Original Sequence As per Manuscript

10. Find the missing number in the series.  
ELFA, GLHA, ILJA, ----, MLNA
- A. OLPA  
B. KLLA  
C. LLMA  
D. KLMA

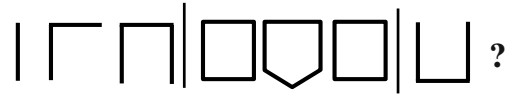
10. श्रृंखला में लुप्त पद ज्ञात कीजिए।  
ELFA, GLHA, ILJA, ----, MLNA
- A. OLPA  
B. KLLA  
C. LLMA  
D. KLMA

11. Look carefully at the sequence of symbols and select the correct pattern that will replace the '?'.



- A.
- B.
- C.
- D.

11. प्रतीकों के अनुक्रम को ध्यान से देखें और सही पैटर्न का चयन करें जो '?' को प्रतिस्थापित करेगा।



- A.
- B.
- C.
- D.

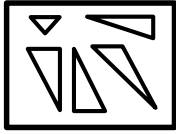
12. If one-third of one-fourth of a number is 15, then three-tenth of that number is-
- A. 35  
B. 36  
C. 54  
D. 45

12. यदि किसी संख्या के एक-चौथाई का एक-तिहाई 15 है, तो उस संख्या का तीन-दसवां हिस्सा है-
- A. 35  
B. 36  
C. 54  
D. 45

SPACE FOR ROUGH WORK / रफ कार्य के लिये जगह

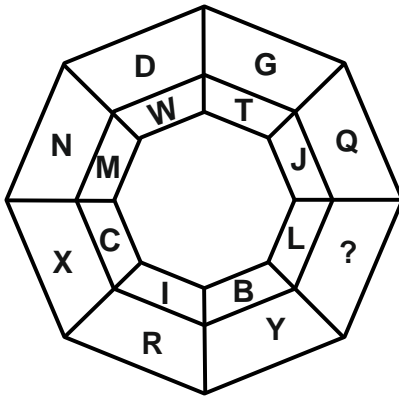
### Original Sequence As per Manuscript

13. Which is the correct figure that can be formed by joining the pieces given in the figure below?



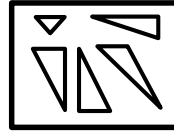
- A.
- B.
- C.
- D.

14. Which letter will replace the '?' in the figure given below?



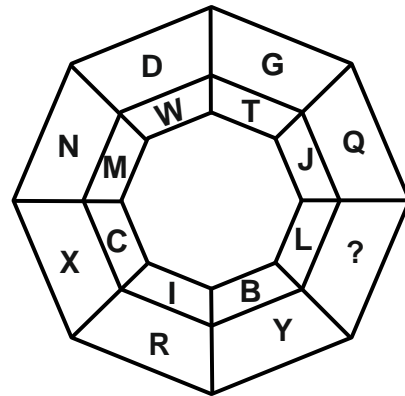
- A. U
- B. P
- C. N
- D. O

13. नीचे दिए गए चित्र में दिए गए टुकड़ों को जोड़कर कौन सी सही आकृति बनाई जा सकती है?



- A.
- B.
- C.
- D.

14. नीचे दिए गए चित्र में '?' के स्थान पर कौन सा अक्षर होगा?



- A. U
- B. P
- C. N
- D. O

SPACE FOR ROUGH WORK / रफ कार्य के लिये जगह

## Original Sequence As per Manuscript

15. If  $\left(\frac{a}{b}\right)^{x-1} = \left(\frac{b}{a}\right)^{x-3}$ , then the value of  $x$  is-

A.  $1/2$   
B. 1  
C. 2  
D.  $7/2$

16. A vessel is filled with liquid, 3 parts of which are water and 5 parts syrup. How much of the mixture must be drawn off and replaced with water so that the mixture may be half water and half syrup?

A.  $1/7$   
B.  $1/5$   
C.  $1/4$   
D.  $1/3$

17. The sum of the ages of 5 children born at the intervals of 3 years each is 50 years. What is the age of the youngest child?

A. 4 years  
B. 8 years  
C. 10 years  
D. 2 years

15. यदि  $\left(\frac{a}{b}\right)^{x-1} = \left(\frac{b}{a}\right)^{x-3}$  है, तो  $x$  का मान क्या है?

A.  $1/2$   
B. 1  
C. 2  
D.  $7/2$

16. एक बर्तन तरल से भरा है, जिसमें से 3 भाग पानी और 5 भाग सिरप है। मिश्रण का कितना भाग निकाल कर उसके स्थान पर पानी डालना चाहिए ताकि मिश्रण आधा पानी और आधा सिरप बन जाए?

A.  $1/7$   
B.  $1/5$   
C.  $1/4$   
D.  $1/3$

17. प्रत्येक 3 वर्ष के अंतराल पर पैदा हुए 5 बच्चों की आयु का योग 50 वर्ष है। सबसे छोटे बच्चे की उम्र क्या है?

A. 4 वर्ष  
B. 8 वर्ष  
C. 10 वर्ष  
D. 2 वर्ष

---

SPACE FOR ROUGH WORK / रफ कार्य के लिये जगह

## Original Sequence As per Manuscript

18. For determining Sonia's present age from the information given below-
- (I) Sonia's present age is five times Deepak's present age.  
(II) Five years ago her age was twenty-five times Deepak's age at that time
- Which of the following is the correct option?
- A. (I) alone sufficient while (II) alone not sufficient to answer.  
B. (II) alone sufficient while (I) alone not sufficient to answer.  
C. Both (I) and (II) are not sufficient to answer.  
D. Both (I) and (II) are necessary to answer.

19. Here are some words translated from an artificial language.  
malgauper means peach cobbler  
malgaport means peach juice  
moggagrop means apple jelly  
Which word could mean "apple juice"?
- A. moggaport  
B. malgaaper  
C. gropport  
D. moggagrop

18. नीचे दी गई जानकारी से सोनिया की वर्तमान आयु निर्धारित करने के लिए-
- (I) सोनिया की वर्तमान आयु दीपक की वर्तमान आयु की पांच गुना है।  
(II) पांच वर्ष पहले उसकी आयु उस समय दीपक की आयु की पच्चीस गुना थी।
- निम्नलिखित में से कौन सा विकल्प सही है?
- A. उत्तर देने के लिए केवल (I) पर्याप्त है जबकि केवल (II) पर्याप्त नहीं है।  
B. केवल (II) पर्याप्त है जबकि केवल (I) उत्तर देने के लिए पर्याप्त नहीं है।  
C. (I) और (II) दोनों उत्तर देने के लिए पर्याप्त नहीं हैं।  
D. (I) और (II) दोनों उत्तर देने के लिए आवश्यक हैं।

19. यहां कृत्रिम भाषा से अनुवादित कुछ शब्द दिए गए हैं।  
malgauper का अर्थ है peach cobbler  
malgaport का अर्थ है peach juice  
moggagrop का अर्थ है apple jelly  
किस शब्द का अर्थ "apple juice" हो सकता है?
- A. moggaport  
B. malgaaper  
C. gropport  
D. moggagrop

---

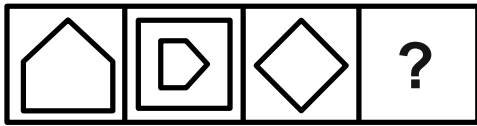
SPACE FOR ROUGH WORK / रफ कार्य के लिये जगह




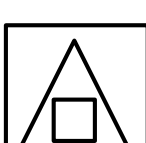
**Original Sequence As per Manuscript**

20. Select the one that is different from the other three.

- A. peninsula
- B. island
- C. bay
- D. cape

21. Select a suitable figure that would replace the question mark (?).

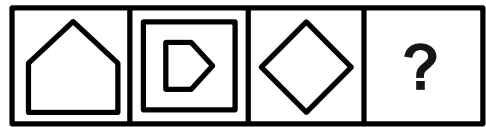





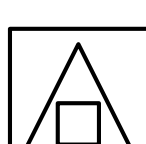
- A. 
- B. 
- C. 
- D. 

20. उस विकल्प का चयन करें जो अन्य तीन से भिन्न है।

- A. प्रायद्वीप
- B. द्वीप
- C. खाड़ी
- D. अंतरीप

21. उपयुक्त आकृति का चयन करें जो प्रश्न चिह्न (?) को प्रतिस्थापित करेगी।

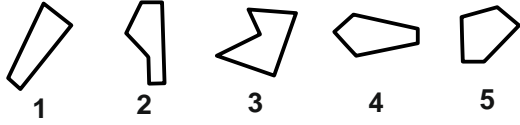


- A. 
- B. 
- C. 
- D. 

SPACE FOR ROUGH WORK / रफ कार्य के लिये जगह

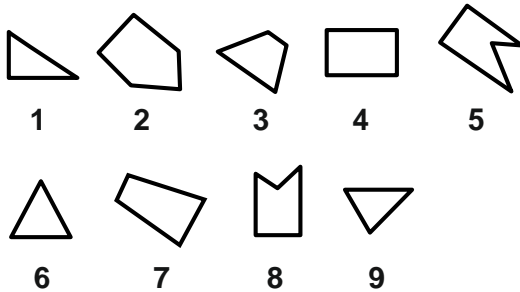
## Original Sequence As per Manuscript

22. Select the three figures from the following five alternatives that would form a complete square, when rearranged.



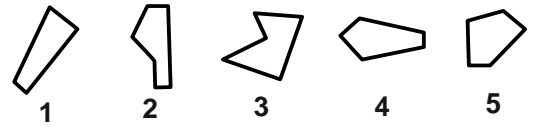
- A. 1, 2, 3  
B. 1, 3, 5  
C. 1, 4, 5  
D. 2, 3, 4

23. If the following nine figures are grouped into three classes using each figure only once, then the correct option would be-



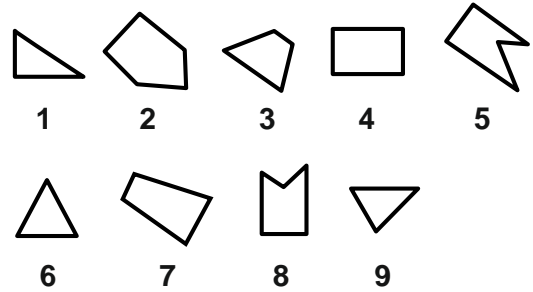
- A. 7, 8, 9; 2, 4, 3; 1, 5, 6  
B. 1, 3, 2; 4, 5, 7; 6, 8, 9  
C. 1, 6, 8; 3, 4, 7; 2, 5, 9  
D. 1, 6, 9; 3, 4, 7; 2, 5, 8

22. निम्नलिखित पांच विकल्पों में से तीन आकृतियों का चयन करें जो पुनर्व्यवस्थित होने पर एक पूर्ण वर्ग बनाएंगे।



- A. 1, 2, 3  
B. 1, 3, 5  
C. 1, 4, 5  
D. 2, 3, 4

23. निम्नलिखित नौ आकृतियों को केवल एक बार प्रत्येक आकृति का उपयोग करके तीन वर्गों में समूहित किया जाता है, तो सही विकल्प होगा-



- A. 7, 8, 9; 2, 4, 3; 1, 5, 6  
B. 1, 3, 2; 4, 5, 7; 6, 8, 9  
C. 1, 6, 8; 3, 4, 7; 2, 5, 9  
D. 1, 6, 9; 3, 4, 7; 2, 5, 8

SPACE FOR ROUGH WORK / रफ कार्य के लिये जगह

## Original Sequence As per Manuscript

24. In a certain code language,  
'pit na som' means 'bring me water'  
'na jo tod' means 'water is life'  
'tub od pit' means 'give me toy'  
'jo lin kot' means 'life and death'  
Which of the following represents 'is'  
in that language?

A. jo  
B. na  
C. tod  
D. lin

25. In the following number series, all the numbers except one follow a certain mathematical formula. Find the number that is different from the others-

2, 5, 10, 17, 26, 37, 50, 64

A. 50  
B. 37  
C. 26  
D. 64

24. एक निश्चित कूट भाषा में,  
'pit na som' का अर्थ है 'bring me water'  
'na jo tod' का अर्थ है 'water is life'  
'tub od pit' का अर्थ है 'give me toy'  
'jo lin kot' का अर्थ है 'life and death'  
निम्नलिखित में से कौन उस भाषा में 'is' को दर्शाता है?

A. jo  
B. na  
C. tod  
D. lin

25. निम्नलिखित संख्या श्रृंखला में, एक को छोड़कर सभी संख्याएं एक निश्चित गणितीय सूत्र का पालन करती हैं। वह संख्या ज्ञात कीजिए जो अन्य संख्याओं से भिन्न है-

2, 5, 10, 17, 26, 37, 50, 64

A. 50  
B. 37  
C. 26  
D. 64

---

SPACE FOR ROUGH WORK / रफ कार्य के लिये जगह

## Original Sequence As per Manuscript

26. Eleven students A, B, C, D, E, F, G, H, I, J and K are sitting in the first line facing the teacher.  
D who is just to the left of F, and is to the right of C at second place.  
A is second to the right of E which is at one end.  
J is the nearest neighbour of A and B and is to the left of G at third place.  
H is next to D to the left and is at the third place to the right of I.  
Who is sitting in the middle?
- A. I  
B. H  
C. G  
D. B

26. ग्यारह छात्र A, B, C, D, E, F, G, H, I, J और K पहली पंक्ति में शिक्षक के सम्मुख बैठे हैं।  
D जो F के ठीक बायीं ओर है, और C के दायीं ओर दूसरे स्थान पर है।  
A, E के दायें से दूसरे स्थान पर है जो एक छोर पर है।  
J, A और B का निकटतम पड़ोसी है और G के बायीं ओर तीसरे स्थान पर है।  
H, D के बगल में बायीं ओर है और I के दाएं से तीसरे स्थान पर है।  
बीच में कौन बैठा है?
- A. I  
B. H  
C. G  
D. B

---

SPACE FOR ROUGH WORK / रफ कार्य के लिये जगह

## Original Sequence As per Manuscript

27. A team of five is to be selected from five boys (A, B, C, D and E) and four girls (P, Q, R and S). Some criteria for selection are-
- A and S have to be together.
  - P cannot be put with R.
  - D and Q cannot go together.
  - C and E have to be together.
  - R cannot be put with B.
- If R be one of the members, the other members of the team can be-
- A. P, S, A, D
  - B. Q, S, A, D
  - C. Q, S, C, E
  - D. A, C, S, E


27. पांच लड़कों (A, B, C, D, और E) और चार लड़कियों (P, Q, R और S) में से पांच लोगों की एक टीम का चयन किया जाना है। चयन के लिए कुछ मानदंड हैं-
- A और S को एक साथ होना है।
  - P को R के साथ नहीं रखा जा सकता है।
  - D और Q एक साथ नहीं जा सकते।
  - C और E को एक साथ होना चाहिए।
  - R को B के साथ नहीं रखा जा सकता है।
- यदि R सदस्यों में से एक है, तो टीम के अन्य सदस्य क्या हो सकते हैं?
- A. P, S, A, D
  - B. Q, S, A, D
  - C. Q, S, C, E
  - D. A, C, S, E





---

SPACE FOR ROUGH WORK / रफ कार्य के लिये जगह

## Original Sequence As per Manuscript

28. Identify the figure that contains the below figure hidden in it.







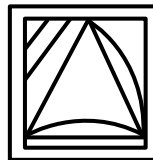
- A. 
- B. 
- C. 
- D. 

29. If '×' stands for 'addition', '÷' stands for 'subtraction', '+' stands for 'multiplication', and '-' stands for 'division', then  $20 \times 8 \div 8 - 4 + 2$  is-

- A. 80  
B. 25  
C. 24  
D. 5

28. उस आकृति की पहचान कीजिये जिसमें नीचे दी गई आकृति छिपी हुई है।



- A. 
- B. 
- C. 
- D. 

29. यदि '×' का अर्थ 'जोड़ना', '÷' का अर्थ 'घटाना', '+' का अर्थ 'गुणा' और '-' का अर्थ 'भाग' है, तो  $20 \times 8 \div 8 - 4 + 2$  का अर्थ है-

- A. 80  
B. 25  
C. 24  
D. 5

SPACE FOR ROUGH WORK / रफ कार्य के लिये जगह

### Original Sequence As per Manuscript

30. Rearrange the jumbled letters to make a meaningful word and select the one that is different from the other three.
- A. EIWNTR
  - B. LCUOD
  - C. PIGRSN
  - D. UMRSME

30. अक्षरों को पुनर्व्यवस्थित करके एक सार्थक शब्द बनाते हुए, उस एक शब्द का चयन करें जो अन्य तीन से भिन्न हो।
- A. EIWNTR
  - B. LCUOD
  - C. PIGRSN
  - D. UMRSME

---

SPACE FOR ROUGH WORK / रफ कार्य के लिये जगह

## Original Sequence As per Manuscript

### PART - II

#### General Knowledge

#### सामान्य ज्ञान

31. Match the following *Tirthankars* with their order according to the belief of Jainism.

Column – I	Column – II
(a) <i>Aadinath</i>	(I) 23
(b) <i>Mahavir</i>	(II) 24
(c) <i>Parshvnath</i>	(III) 02
(d) <i>Ajitnath</i>	(IV) 01

- A. a-IV, b-II, c-I, d-III  
B. a-I, b-II, c-III, d-IV  
C. a-III, b-II, c-IV, d-I  
D. a-IV, b-III, c-II, d-I

32. The meaning of the word '*Udrang*' found in the inscriptions of the *Gupta* dynasty-

- A. Ministerial Post  
B. Tax  
C. Coin  
D. Revolt

33. *Ryotwari* land settlement was implemented in the following places during the British rule-

- A. Bihar  
B. Mumbai  
C. Allahabad  
D. In all the above places

31. जैन धर्म की मान्यता के अनुसार निम्नलिखित तीर्थंकरों को उनके क्रम से सुमेलित कीजिये-

स्तंभ – I	स्तंभ – II
(a) आदिनाथ	(I) 23
(b) महावीर	(II) 24
(c) पार्श्वनाथ	(III) 02
(d) अजितनाथ	(IV) 01

- A. a-IV, b-II, c-I, d-III  
B. a-I, b-II, c-III, d-IV  
C. a-III, b-II, c-IV, d-I  
D. a-IV, b-III, c-II, d-I

32. गुप्त वंश के अभिलेखों में प्राप्त 'उद्रंग' शब्द का अर्थ होता है-

- A. मंत्रीपद  
B. कर  
C. सिक्का  
D. विद्रोह

33. ब्रिटिश शासन काल में निम्नलिखित स्थान में रैयतवाड़ी भूमि बंदोबस्त लागू किया गया था-

- A. बिहार  
B. मुम्बई  
C. इलाहाबाद  
D. उपरोक्त सभी स्थानों में

SPACE FOR ROUGH WORK / रफ कार्य के लिये जगह

## Original Sequence As per Manuscript

34. Ram Prasad Bismil was given death penalty in a Conspiracy Case-
- Kakori
  - Meerut
  - Lahore
  - Chatgaon
35. Which of the following is announced by the government in support of a crop?
- Maximum Support Price
  - Minimum Support Price
  - Moderate Support Price
  - Influential Support Price
36. Arrange the following in the descending order of their liquidity-
- $M_1$
  - $M_2$
  - $M_3$
  - $M_4$
- $M_1, M_3, M_2, M_4$
  - $M_4, M_3, M_2, M_1$
  - $M_1, M_2, M_3, M_4$
  - $M_4, M_2, M_3, M_1$
34. राम प्रसाद बिस्मिल को किस षड्यंत्र केस में मृत्युदण्ड दिया गया था?
- काकोरी
  - मेरठ
  - लाहौर
  - चटगांव
35. निम्नलिखित में से किसकी घोषणा सरकार द्वारा किसी फसल के समर्थन में की जाती है?
- अधिकतम समर्थन कीमत
  - न्यूनतम समर्थन कीमत
  - मध्यम समर्थन कीमत
  - प्रभावशाली समर्थन कीमत
36. निम्नलिखित को उनकी तरलता के अवरोही क्रम में व्यवस्थित करें-
- $M_1$
  - $M_2$
  - $M_3$
  - $M_4$
- $M_1, M_3, M_2, M_4$
  - $M_4, M_3, M_2, M_1$
  - $M_1, M_2, M_3, M_4$
  - $M_4, M_2, M_3, M_1$

---

SPACE FOR ROUGH WORK / रफ कार्य के लिये जगह

## Original Sequence As per Manuscript

37. Infant Mortality Rate (IMR) indicate the number of children that die before the age of ----- as a proportion of 100 live children born in that particular year.

- A. One year
- B. Two year
- C. Three year
- D. Four year

38. What is correct?

- (I) Speaker of Lok Sabha can be removed by No-confidence motion.
- (II) Speaker of Lok Sabha can be removed by a resolution.
- (III) Speaker can be removed by clear majority.
- (IV) Speaker can be removed by a majority of all the then members of the house.

- A. (I), (III)
- B. (I), (IV)
- C. (II), (III)
- D. (II), (IV)

37. शिशु मृत्यु दर (आई एम आर) उस विशेष वर्ष में पैदा हुए 100 जीवित बच्चों के अनुपात के रूप में ----- वर्ष की आयु से पहले मरने वाले बच्चों की संख्या को इंगित करता है।

- A. एक वर्ष
- B. दो वर्ष
- C. तीन वर्ष
- D. चार वर्ष

38. सही क्या है?

- (I) लोक सभा का स्पीकर अविश्वास प्रस्ताव द्वारा पद से हटाया जा सकता है।
- (II) लोक सभा का स्पीकर एक संकल्प द्वारा हटाया जा सकता है।
- (III) स्पीकर स्पष्ट बहुमत से हटाया जा सकता है।
- (IV) सदन के तत्कालीन सदस्यों के बहुमत से स्पीकर को हटाया जा सकता है।

- A. (I), (III)
- B. (I), (IV)
- C. (II), (III)
- D. (II), (IV)

---

SPACE FOR ROUGH WORK / रफ कार्य के लिये जगह

## Original Sequence As per Manuscript

39. Which of the following is matched in the context of III schedule of the Constitution?
- (I) Form of Oath for Prime Minister.  
(II) Form of Oath for Union Minister.  
(III) Form of Oath for a Minister of State  
(IV) Form of Oath for a Member of Parliament.
- A. (I), (II), (III)  
B. (II), (III), (IV)  
C. (III), (IV), (I)  
D. (IV), (I), (II)
40. Which of the following is matched in the context of the majority of the total membership of the each houses of Parliament and by a majority of not less than 2/3 of the members present and voting?
- (I) Impeachment against President.  
(II) Removal resolution against judges of Supreme Court.  
(III) External or Internal Emergency.  
(IV) Constitutional Amendment.
- A. (I), (II), (III)  
B. (II), (III), (IV)  
C. (I), (III), (IV)  
D. (I), (II), (IV)
39. संविधान की तीसरी अनुसूची के संदर्भ में क्या सुमेलित है?
- (I) प्रधान मंत्री के लिए शपथ प्रारूप  
(II) संघ के मंत्री के लिए शपथ प्रारूप  
(III) एक राज्य के मंत्री के लिए शपथ प्रारूप  
(IV) संसद के सदस्य के लिए शपथ प्रारूप
- A. (I), (II), (III)  
B. (II), (III), (IV)  
C. (III), (IV), (I)  
D. (IV), (I), (II)
40. संसद के प्रत्येक सदन की कुल सदस्य संख्या का बहुमत और उपस्थित व मतदान करने वाले सदस्यों के 2/3 बहुमत के संदर्भ में क्या सुमेलित है?
- (I) राष्ट्रपति के विरुद्ध महाभियोग  
(II) सर्वोच्च न्यायालय के न्यायाधीशों के विरुद्ध पदच्युति प्रस्ताव  
(III) आन्तरिक या बाह्य आपात्काल  
(IV) संविधानिक संशोधन
- A. (I), (II), (III)  
B. (II), (III), (IV)  
C. (I), (III), (IV)  
D. (I), (II), (IV)

---

SPACE FOR ROUGH WORK / रफ कार्य के लिये जगह

## Original Sequence As per Manuscript

41. Modern Periodic Table was given by-
- Dobereiner
  - Newland
  - Mendeleev
  - Seaborg
42. Which of the following factors affect human health?
- Infections
  - Silent Mutations
  - Life Style
  - Genetic Disorders
- (I), (II) & (IV)
  - (I) & (II)
  - (I), (III) & (IV)
  - (II), (III) & (IV)
43. The headquarter of ISRO is situated in-
- Bangalore
  - Chennai
  - Shriharikota
  - Hyderabad
41. आधुनिक आवर्त सारणी दी थी-
- डोबेराइनर
  - न्यूलैण्ड
  - मेण्डलीफ
  - सीबोर्ग
42. इनमें से कौन से कारक मानव स्वास्थ्य को प्रभावित करते हैं?
- संक्रमण
  - मौन उत्परिवर्तन
  - जीवन शैली
  - आनुवंशिक विकार
- (I), (II) और (IV)
  - (I) और (II)
  - (I), (III) और (IV)
  - (II), (III) और (IV)
43. इसरो का मुख्यालय स्थित है-
- बैंगलोर
  - चैन्नई
  - श्रीहरिकोटा
  - हैदराबाद

---

SPACE FOR ROUGH WORK / रफ कार्य के लिये जगह

### Original Sequence As per Manuscript

44. Which statement is incorrect regarding western cyclonic disturbance?
- A. This is the Westerly flow that comes in winter.
  - B. It is not affected by the Jet stream.
  - C. Affects the Northern and North-Western regions of India.
  - D. Flow coming from the Mediterranean Sea Region.
45. Longest national highway is-
- A. Varanasi to Kanyakumari
  - B. Shershah Suri Marg
  - C. Silchar to Porbandar
  - D. None of these
44. पश्चिमी चक्रवातीय विक्षोभ के संबंध में कौन सा कथन गलत है?
- A. यह सर्दियों में आने वाला पश्चिमी प्रवाह है।
  - B. यह जेट धारा से अप्रभावित है।
  - C. भारत के उत्तर एवं उत्तर पश्चिम क्षेत्र को प्रभावित करते हैं।
  - D. भूमध्य सागरीय क्षेत्र से आने वाला प्रवाह है।
45. सबसे लंबा राष्ट्रीय राजमार्ग है-
- A. वाराणसी से कन्याकुमारी
  - B. शेरशाह सूरी मार्ग
  - C. सिलचर से पोरबंदर
  - D. इनमें से कोई नहीं

---

SPACE FOR ROUGH WORK / रफ कार्य के लिये जगह

## Original Sequence As per Manuscript

46. Which commission stated that “We have therefore come to the conclusion which also tallies with the view of the University Education Commission in this connection that it is desirable to abolish the present intermediate stage to increase the period of secondary education by one year and to plan a three year degree course in University stage”?
- A. Kothari Commission (Education Commission) (1964-66)  
B. Mudaliar Commission (Secondary Education Commission) (1952-53)  
C. Radhakrishnan Commission (University Education Commission) (1948-49)  
D. National Knowledge Commission (2006-09)
47. Atal Tinkering Labs is an initiative by which of the following institutions?
- A. *NITI Aayog*  
B. Indian Space Research Organization (*ISRO*)  
C. Defence Research and Development Organization (*DRDO*)  
D. Central Board of Secondary Education (*CBSE*)
46. किस आयोग ने कहा कि, “इसलिए हम इस निष्कर्ष पर पहुँचते हैं - जो इस सम्बन्ध में विश्वविद्यालय शिक्षा आयोग के दृष्टिकोण से भी मेल खाता है कि माध्यमिक शिक्षा की अवधि को एक वर्ष बढ़ाने और विश्वविद्यालय चरण में तीन वर्षीय डिग्री पाठ्यक्रम की योजना बनाने के लिए वर्तमान इंटरमीडिएट चरण को समाप्त करना वांछनीय है”?
- A. कोठारी आयोग (शिक्षा आयोग) (1964-66)  
B. मुदलियार आयोग (माध्यमिक शिक्षा आयोग) (1952-53)  
C. राधाकृष्णन आयोग (विश्वविद्यालय शिक्षा आयोग) (1948-49)  
D. राष्ट्रीय ज्ञान आयोग (2006-09)
47. अटल टिंकरिंग लैब्स निम्नलिखित में से किस संस्थान की एक पहल है?
- A. नीति आयोग  
B. भारतीय अंतरिक्ष अनुसंधान संगठन (*ISRO*)  
C. रक्षा अनुसंधान और विकास संगठन (*DRDO*)  
D. केन्द्रीय माध्यमिक शिक्षा बोर्ड (*CBSE*)

---

SPACE FOR ROUGH WORK / रफ कार्य के लिये जगह

## Original Sequence As per Manuscript

48. According to NEP 2020, students will be given increased flexibility in course choices of the subject to study at secondary level. Choose the correct option among below given choices-
- (I) No hard separation among 'curricular', 'extra curricular' or 'co-curricular'
- (II) No hard separation among 'arts', 'humanities' and 'science'.
- (III) No hard separation between 'vocational' and 'academic' stream.
- A. Only (I) is correct statement.
- B. (I) and (II) both are correct statements.
- C. (I), (II) and (III) are correct statements.
- D. (II) and (III) are correct statements.

48. एन.ई.पी. 2020 के अनुसार, छात्रों को माध्यमिक स्तर पर अध्ययन के लिए विषय पाठ्यक्रम के विकल्पों में अधिक लचीलापन दिया जाएगा। नीचे दिए गए विकल्पों में से सही विकल्प चुनें-
- (I) 'पाठ्यक्रम', 'अतिरिक्त पाठ्यक्रम' या 'सह-पाठ्यक्रम' के बीच कोई सख्त अलगाव नहीं।
- (II) 'कला', 'मानविकी' और 'विज्ञान' के बीच कोई कठोर अलगाव नहीं।
- (III) व्यावसायिक और अकादमिक धारा के बीच कोई कठोर अलगाव नहीं।
- A. केवल (I) सही कथन है।
- B. (I) और (II) दोनों कथन सही हैं।
- C. (I), (II) और (III) सही कथन हैं।
- D. (II) और (III) सही कथन हैं।

---

SPACE FOR ROUGH WORK / रफ कार्य के लिये जगह

## Original Sequence As per Manuscript

49. Which of the following are main objectives of RMSA (*Rashtriya Madhyamik Shiksha Abhiyan*)?
- (I) To ensure that all secondary schools have physical facilities, staffs and supplies at least according to the prescribed standards.
- (II) To improve access to secondary schooling to all young persons according to norms.
- (III) To ensure that no child is deprived of secondary education of satisfactory quality due to gender, socio-economic, disability and other barriers.
- (IV) To bring positive qualitative change in life of secondary school students.
- A. (I), (II) and (III)  
B. (I), (II), (III) and (IV)  
C. (II), (III) and (IV)  
D. (I) and (IV)

49. निम्नलिखित में से कौन आर.एम.एस.ए (राष्ट्रीय माध्यमिक शिक्षा अभियान) के मुख्य उद्देश्य हैं?
- (I) यह सुनिश्चित करना कि सभी माध्यमिक विद्यालयों में कम से कम निर्धारित मानकों के अनुसार भौतिक सुविधाएं, कर्मचारी और सामग्री हो।
- (II) मानदण्डों के अनुसार सभी युवाओं के लिए माध्यमिक स्कूली शिक्षा तक पहुँच में सुधार करना।
- (III) यह सुनिश्चित करना कि कोई भी बच्चा लिंग, सामाजिक-आर्थिक, विकलांगता और अन्य बाधाओं के कारण संतोषजनक गुणवत्ता वाली माध्यमिक शिक्षा से वंचित न रहे।
- (IV) माध्यमिक विद्यालय के छात्रों के जीवन में सकारात्मक गुणात्मक परिवर्तन लाना।
- A. (I), (II) और (III)  
B. (I), (II), (III) और (IV)  
C. (II), (III) और (IV)  
D. (I) और (IV)

---

SPACE FOR ROUGH WORK / रफ कार्य के लिये जगह

## Original Sequence As per Manuscript

50. Choose the correct answer regarding *NIPUN Bharat* Programme that is launched in July 2021-
- A. *NIPUN Bharat* aims to cover the learning needs of children in the age group of 5 to 9 years.
  - B. *NIPUN* stands for National Initiative for Proficiency in Reading with Understanding and Numeracy.
  - C. It is launched by Home Ministry.
  - D. It comes under the aegis of the centrally sponsored scheme of *Sukanya* Scheme.

50. जुलाई, 2021 में लॉन्च किए गए निपुण भारत कार्यक्रम के संबंध में सही उत्तर चुनें-
- A. निपुण भारत का लक्ष्य 5 से 9 वर्ष की आयु के बच्चों की सीखने की जरूरतों को पूरा करना है।
  - B. NIPUN का मतलब नेशनल इनिशिएटिव फॉर प्रोफिशिएंसी इन रीडिंग विद अंडरस्टैंडिंग एण्ड न्यूमेरेसी है।
  - C. इसे गृह मंत्रालय द्वारा लॉन्च किया गया है।
  - D. यह सुकन्या योजना की केन्द्र प्रायोजित योजना के तत्वावधान में आता है।

---

SPACE FOR ROUGH WORK / रफ कार्य के लिये जगह

## Original Sequence As per Manuscript

### PART – III

#### Educational Interest

#### शिक्षण अभिरूचि

51. In primary school the most appropriate method to do effective teaching is-
- A. Positive feedback  
B. Safe environment  
C. Relating the content to children's daily life.  
D. Organise a group activity.
52. Which of the following would you give the greatest importance in curriculum development?
- A. The process of teaching.  
B. Social participation  
C. Abilities and needs of the students.  
D. Learning activities
53. Which of the following is the most appropriate factor to increase correct behaviour in students?
- A. Reward  
B. Punishment  
C. Use simple language  
D. Praise
51. प्राथमिक विद्यालय में शिक्षण करने की सबसे उपयुक्त प्रणाली है-
- A. सकारात्मक प्रतिक्रिया  
B. सुरक्षित वातावरण  
C. विषयवस्तु को बच्चों के दैनिक जीवन से जोड़ना।  
D. सामूहिक गतिविधि का आयोजन करना।
52. पाठ्यचर्या के विकास में आप निम्नलिखित में से किसे सबसे अधिक महत्त्व देंगे?
- A. सीखाने की प्रक्रियाएँ  
B. सामाजिक सहभागिता  
C. विद्यार्थियों की क्षमताओं और आवश्यकताओं को।  
D. सीखने की गतिविधियाँ
53. इनमें से कौन सा कारक विद्यार्थी के सही व्यवहार को बढ़ावा देने के लिए सबसे अधिक उचित है?
- A. पुरस्कार  
B. दंड  
C. सरल भाषा का उपयोग  
D. प्रशंसा

---

SPACE FOR ROUGH WORK / रफ कार्य के लिये जगह

## Original Sequence As per Manuscript

54. Which of the following does not indicate the effectiveness of teaching?
- A. Encourage students to question.
  - B. Maintaining constant discipline in the class.
  - C. Priority given to student's experience.
  - D. Student being active in the class.
55. Which one of the following statement is true about the development of a child?
- A. Development is a short term process.
  - B. Development refers to changes in quantitative aspect only.
  - C. Development refers to changes in qualitative aspect only.
  - D. It is a continuous process.
56. Which classes are included in the middle stage as per NEP - 2020 new curricular structure?
- A. Class 6 - 9
  - B. Class 6 - 8
  - C. Class 9 - 12
  - D. Class 11 - 12

54. निम्नलिखित में से कौन सा शिक्षण की प्रभाविता को इंगित नहीं करता?
- A. विद्यार्थियों को प्रश्न पूछने के लिए प्रेरित करना।
  - B. कक्षा में निरन्तर अनुशासन बनाए रखना।
  - C. विद्यार्थी के अनुभव को प्राथमिकता देना।
  - D. कक्षा में विद्यार्थियों का सक्रिय रहना।
55. इनमें से कौन सा कथन बच्चे के विकास के सन्दर्भ में सही है?
- A. विकास अल्प अवधि की प्रक्रिया है।
  - B. विकास का तात्पर्य केवल मात्रात्मक पहलू में परिवर्तन से है।
  - C. विकास का तात्पर्य केवल गुणात्मक पहलू में परिवर्तन से है।
  - D. यह निरन्तर चलने वाली प्रक्रिया है।
56. NEP - 2020 की नई पाठ्यचर्या संरचना के अनुसार मध्य चरण में कौन सी कक्षाएँ शामिल हैं?
- A. कक्षा 6 - 9
  - B. कक्षा 6 - 8
  - C. कक्षा 9 - 12
  - D. कक्षा 11 - 12

---

SPACE FOR ROUGH WORK / रफ कार्य के लिये जगह

## Original Sequence As per Manuscript

57. Which of the following statements about learning is correct from a constructivist approach?
- Learning is a process of recall.
  - Punishment is crucial for constructing knowledge.
  - Learning occurs through stimulus and responses.
  - Social interaction is important in learning.
58. Which statement is not correct regarding closed type questions?
- Suitable for uncovering insight.
  - Suitable for measuring attitudes
  - Suitable for conducting quantitative analysis.
  - Suitable for collecting specific data.
59. The basic principle of inclusive education is-
- Sensitivity to individual differences.
  - Special provision for children with special need.
  - Meeting the need of every student.
  - Education of minority group children.
57. सीखने से संबंधित कौन सा कथन संरचनावादी दृष्टिकोण के अनुसार सही है?
- सीखना याद रखने की प्रक्रिया है।
  - ज्ञान निर्माण के लिए सजा महत्वपूर्ण है।
  - सीखना उद्दीपन और अनुक्रिया के द्वारा होता है।
  - सीखने में सामाजिक अन्तःक्रिया महत्वपूर्ण है।
58. बन्द प्रकार के प्रश्नों के संबंध में कौन सा कथन सही नहीं है?
- अंतर्दृष्टि को उजागर करने के लिए उपयुक्त है।
  - दृष्टिकोण मापने के लिए उपयुक्त है।
  - मात्रात्मक विश्लेषण करने के लिए उपयुक्त है।
  - विशिष्ट आकड़े एकत्र करने के लिए उपयुक्त है।
59. समावेशी शिक्षा का मूल सिद्धान्त है-
- व्यक्तिगत भिन्नत्व के प्रति संवेदनशीलता
  - विशेष आवश्यकता वाले बच्चों के लिए विशेष प्रावधान
  - प्रत्येक विद्यार्थी की आवश्यकता पूरी करना।
  - अल्पसंख्यक समूहों के बच्चों की शिक्षा।

---

SPACE FOR ROUGH WORK / रफ कार्य के लिये जगह

## Original Sequence As per Manuscript

60. Mistakes made by students in class-
- Creates obstacles to learning.
  - Helps students to solve problem.
  - This indicates student's weakness in learning.
  - Slows down the pace of learning.
61. Enlightened Indian Perspectives '*Panchkosha Vikas*' (five fold development) is related to which of the following?
- National Curriculum Frameworks 2005 (NCF 2005)
  - National Curriculum Framework - 2000 (NCF 2000)
  - National Education Policy – 1984
  - National Curriculum Framework Foundational Stage - 2022
62. Which one of the most important element in teaching?
- Content Knowledge
  - Relationship between student and teacher
  - Classroom management
  - Teaching method used
60. कक्षा में विद्यार्थियों द्वारा की गई गलतियाँ-
- सीखने में बाधा उत्पन्न करती है।
  - विद्यार्थियों की समस्या का समाधान करने में सहायता करती है।
  - सीखने में विद्यार्थियों की कमजोरी की परिचायक है।
  - सीखने की गति को धीमा करती है।
61. प्रबुद्ध भारतीय 'परिप्रेक्ष्य पंचकोष' विकास इनमें से किससे संबंधित है?
- राष्ट्रीय पाठ्यचर्या की रूपरेखा - 2005
  - राष्ट्रीय पाठ्यचर्या की रूपरेखा - 2000
  - राष्ट्रीय शिक्षा नीति - 1984
  - राष्ट्रीय पाठ्यचर्या की रूपरेखा फाउंडेशनल स्टेज - 2022
62. शिक्षण का सबसे महत्वपूर्ण तत्त्व कौन सा है?
- विषय का ज्ञान
  - शिक्षक और विद्यार्थी के बीच सम्बन्ध
  - कक्षा प्रबन्धन
  - प्रयुक्त शिक्षण विधियाँ

---

SPACE FOR ROUGH WORK / रफ कार्य के लिये जगह

## Original Sequence As per Manuscript

63. Which of the following set of statements are the benefit of the online learning method?

- (I) Flexible learning environment.
- (II) Reduced Instructor Interaction.
- (III) Flexibility in learning schedule.
- (IV) Reduced communication skill.

Select the correct answer from the following options-

- A. (I) and (II) only
- B. (I) and (III) only
- C. (I), (II) and (III) only
- D. (III) and (IV) only

64. Which of the following indicates the effectiveness of teaching?

- (I) Student being active in class.
- (II) Maintaining constant discipline in the class.
- (III) Encourage students to question.
- (IV) Priority given to student's experiences.

Select the correct answer from the following options.

- A. (I) and (II) only
- B. (II) and (III) only
- C. (I), (III) and (IV) only
- D. (I), (II), (III) and (IV) only

63. निम्नलिखित में से कौन से कथन ऑनलाइन शिक्षण पध्दति के लाभ हैं?

- (I) सीखने का लचीला वातावरण।
- (II) प्रशिक्षक से अतःक्रिया में कमी।
- (III) सीखने के कार्यक्रम में लचीलापन।
- (IV) संप्रेषण कौशल में कमी।

नीचे दिए गए उत्तरों में से सही विकल्प का चुनाव करें-

- A. केवल (I) और (II)
- B. केवल (I) और (III)
- C. केवल (I), (II) और (III)
- D. केवल (III) और (IV)

64. निम्नलिखित में से कौन कौन शिक्षण की प्रभाविता की ओर इंगित करते हैं?

- (I) कक्षा में विद्यार्थियों का सक्रिय रहना।
- (II) कक्षा में निरन्तर अनुशासन बनाए रखना।
- (III) विद्यार्थियों को प्रश्न पूछने के लिए प्रेरित करना।
- (IV) विद्यार्थियों के अनुभवों को प्राथमिकता देना।

नीचे दिए गए विकल्पों में से सही उत्तर का चुनाव करें-

- A. केवल (I) और (II)
- B. केवल (II) और (III)
- C. केवल (I), (III) और (IV)
- D. केवल (I), (II), (III) और (IV)

---

SPACE FOR ROUGH WORK / रफ कार्य के लिये जगह

## Original Sequence As per Manuscript

65. Which of the following statements regarding the activity conducted in the classroom is incorrect?

- (I) Learning by rote
- (II) There must be an element of challenge in the activity.
- (III) The activity is done in a group and not alone.
- (IV) Any sport can be also an activity.

Select the correct answer from the following option.

- A. (I) and (III)
- B. (I) and (II)
- C. (I) and (IV)
- D. (III) and (IV)

66. Which of the following statements are correct about the process of development of an individual?

- (I) Development is a short term process.
- (II) It is influenced only by heredity of an individual.
- (III) It is a continuous process.
- (IV) Development is only based on environmental factors.

- A. (II) and (III) only
- B. (III) and (IV) only
- C. (III) only
- D. (I), (II), (III) and (IV)

65. इनमें से कौन से कथन कक्षा में आयोजित गतिविधि के संबंध में गलत है?

- (I) रट कर सीखना।
- (II) गतिविधि में चुनौति का तत्त्व होना चाहिए।
- (III) गतिविधि समूह में ही की जाती है अकेले नहीं।
- (IV) कोई खेल भी गतिविधि हो सकता है।

नीचे दिए गए विकल्पों में से सही उत्तर का चुनाव करें-

- A. (I) और (III)
- B. (I) और (II)
- C. (I) और (IV)
- D. (III) और (IV)

66. निम्नलिखित में से कौन से कथन व्यक्ति के विकास की प्रक्रिया के बारे में सही हैं?

- (I) विकास अल्प अवधि की प्रक्रिया है।
- (II) यह केवल व्यक्ति की आनुवांशिकता से प्रभावित होता है।
- (III) यह निरन्तर चलने वाली प्रक्रिया है।
- (IV) विकास केवल वातावरणीय कारकों द्वारा निर्धारित होता है।

- A. केवल (II) और (III)
- B. केवल (III) और (IV)
- C. केवल (III)
- D. (I), (II), (III) और (IV)

---

SPACE FOR ROUGH WORK / रफ कार्य के लिये जगह

## Original Sequence As per Manuscript

67. In the constructivist teaching process-
- (I) Active participation of student.
  - (II) Teacher in the role of imparter of knowledge.
  - (III) There is no place for interaction in learning.
  - (IV) Learning takes place in sociality.
- Choose the correct options.
- A. (I) and (II)
  - B. (III) and (IV)
  - C. (I) and (IV)
  - D. (II) and (III)
68. Which of the following is a formative assessment?
- (I) Explain the new terms given in the lesson.
  - (II) Asking children to solve the questions given in the lesson.
  - (III) Asking children to draw the picture given in the lesson.
  - (IV) Get the children to do the activity and record the observation.
- A. (I) and (II) only
  - B. (IV) only
  - C. (III) and (IV) only
  - D. (II) and (III) only

67. रचनावादी शिक्षण प्रक्रिया में-
- (I) विद्यार्थी की सक्रिय भागीदारी।
  - (II) शिक्षक ज्ञान देने वाले की भूमिका में।
  - (III) सीखने में अन्तःक्रिया का कोई स्थान नहीं।
  - (IV) सीखना सामाजिकता में होता है।
- सही विकल्पों का चुनाव करें-
- A. (I) और (II)
  - B. (III) और (IV)
  - C. (I) और (IV)
  - D. (II) और (III)
68. इनमें से कौन सा रचनात्मक आकलन है?
- (I) पाठ में दी गई नवीन शब्दावलियों की व्याख्या करना।
  - (II) पाठ में दिए गए प्रश्नों को बच्चों से हल करवाना।
  - (III) बच्चों को पाठ में दिए गए चित्र बनाने को कहना।
  - (IV) बच्चों से क्रियाकलाप करवाना और अवलोकनों को दर्ज करना।
- A. केवल (I) और (II)
  - B. केवल (IV)
  - C. केवल (III) और (IV)
  - D. केवल (II) और (III)

---

SPACE FOR ROUGH WORK / रफ कार्य के लिये जगह

## Original Sequence As per Manuscript

69. Match the following-

Column - I

(Psychologist)

- (a) E. L. Thorndike
- (b) Ivan Pavlov
- (c) B. F. Skinner
- (d) Wolfgang Kohler

Column - II

(Theory)

- (I) Insight Theory
- (II) Trial and Error
- (III) Classical Conditioning
- (IV) Operant Conditioning

Select the correct answer from the options below-

- A. a-II, b-III, c-IV, d-I
- B. a-III, b-II, c-IV, d-I
- C. a-I, b-III, c-II, d-IV
- D. a-III, b-IV, c-I, d-II

69. निम्नलिखित सुमेलित कीजिए-

स्तम्भ - I

(मनोवैज्ञानिक)

- (a) इ. एल. थार्नडाईक
- (b) इवान पावलोव
- (c) बी. एफ. स्कीनर
- (d) वोल्फगैंग कोहलर

स्तम्भ - II

(सिध्दान्त)

- (I) सूझ का सिध्दान्त
- (II) प्रयास व त्रुटि
- (III) शास्त्रीय अनुबन्धन
- (IV) क्रियाप्रसूत अनुबन्धन

नीचे दिए गए विकल्पों में से सही उत्तर का चुनाव करें-

- A. a-II, b-III, c-IV, d-I
- B. a-III, b-II, c-IV, d-I
- C. a-I, b-III, c-II, d-IV
- D. a-III, b-IV, c-I, d-II

---

SPACE FOR ROUGH WORK / रफ कार्य के लिये जगह

## Original Sequence As per Manuscript

70. Match the following-

Column – I

- (a) NCF 2005
- (b) NCF-FS 2022
- (c) NEP 2020
- (d) NEP 1984

Column – II

- (I) Operation Black Board
- (II) Multilingualism
- (III) Learning without burden
- (IV) *Panchkoshi Vikas*

Select correct answer from the options given below-

- A. a-II, b-IV, c-I, d-III
- B. a-III, b-IV, c-II, d-I
- C. a-IV, b-III, c-II, d-I
- D. a-II, b-III, c-I, d-IV

71. Match the following-

Philosophy

Philosopher

- (a) Idealism (I) John Dewey
- (b) Pragmatism (II) Rousseau
- (c) Naturalism (III) John Locke
- (d) Realism (IV) Plato

- A. a-I, b-IV, c-II, d-III
- B. a-II, b-III, c-IV, d-I
- C. a-III, b-IV, c-I, d-II
- D. a-IV, b-I, c-II, d-III

70. निम्नलिखित सुमेलित कीजिए-

स्तम्भ – I

- (a) NCF 2005
- (b) NCF-FS 2022
- (c) NEP 2020
- (d) NEP 1984

स्तम्भ – II

- (I) आपरेशन ब्लैक बोर्ड
- (II) बहुभाषिता
- (III) शिक्षा बिना बोझ के
- (IV) पंचकोषी विकास

नीचे दिए गए विकल्पों में से सही उत्तर का चुनाव करें-

- A. a-II, b-IV, c-I, d-III
- B. a-III, b-IV, c-II, d-I
- C. a-IV, b-III, c-II, d-I
- D. a-II, b-III, c-I, d-IV

71. निम्नलिखित सुमेलित कीजिए-

दर्शन

दर्शनशास्त्री

- (a) आदर्शवाद (I) जॉन डीवी
- (b) प्रयोजनवाद (II) रूसो
- (c) प्रकृतिवाद (III) जॉन लॉक
- (d) यथार्थवाद (IV) प्लेटो

- A. a-I, b-IV, c-II, d-III
- B. a-II, b-III, c-IV, d-I
- C. a-III, b-IV, c-I, d-II
- D. a-IV, b-I, c-II, d-III

---

SPACE FOR ROUGH WORK / रफ कार्य के लिये जगह

## Original Sequence As per Manuscript

72. Two statements are given below, Assertion (A) and Reason (R). Choose the correct answer in the context of these-

Assertion (A) : Teachers should use formative assessment in the classroom so that they can continuously assess the progress of students.

Reason (R) : Formative assessment alone cannot gather information about the progress.

- A. Both Assertion (A) and Reason (R) correct and Reason (R) is the correct explanation of Assertion (A).
- B. Both Assertion (A) and Reason (R) correct but Reason (R) is not the correct explanation of Assertion (A).
- C. Both Assertion (A) and Reason (R) not correct.
- D. Assertion (A) is incorrect and Reason (R) is correct.

72. नीचे दो कथन दिए गए हैं, अभिकथन (A) और कारण (R)। इन कथनों के सन्दर्भ में सही उत्तर का चुनाव करें-

अभिकथन (A) : शिक्षकों को कक्षा में रचनात्मक आकलन का उपयोग करना चाहिए जिससे वे विद्यार्थियों की प्रगति का निरन्तर आकलन कर सके।

कारण (R) : केवल रचनात्मक आकलन से विद्यार्थी के विकास के विभिन्न क्षेत्रों की प्रगति के बारे में सूचनाएं एकत्र नहीं की जा सकती।

- A. दोनों अभिकथन (A) और कारण (R) सही हैं कारण (R), अभिकथन (A) की सही व्याख्या है।
- B. दोनों अभिकथन (A) और कारण (R) सही हैं परन्तु कारण (R), अभिकथन (A) की सही व्याख्या नहीं है।
- C. दोनों अभिकथन (A) और कारण (R) सही नहीं है।
- D. अभिकथन (A) गलत है और कारण (R) सही है।

---

SPACE FOR ROUGH WORK / रफ कार्य के लिये जगह

## Original Sequence As per Manuscript

73. Two statements are given below, Assertion (A) and Reason (R) choose the correct answer in the context of these-

Assertion (A) : Learning is a life long process.

Reason (R) : For learning to be useful it must be connected to life.

- A. Both Assertion (A) and Reason (R) are correct and Reason (R) is the correct explanation of Assertion (A).
- B. Both Assertion (A) and Reason (R) are correct but Reason (R) is not the correct explanation of Assertion (A).
- C. Both Assertion (A) and Reason (R) are not correct.
- D. Assertion (A) is incorrect and Reason (R) is correct.

73. नीचे दो कथन दिए गए हैं, अभिकथन (A) और कारण (R) इन कथनों के सन्दर्भ में सही उत्तर का चुनाव करें-

अभिकथन (A) : अधिगम एक जीवन पर्यन्त चलने वाली प्रक्रिया है।

कारण (R) : अधिगम के उपयोगी होने के लिए उसे जीवन से जोड़ा जाना चाहिए।

- A. अभिकथन (A) और कारण (R) दोनों सही हैं कारण (R), अभिकथन (A) की सही व्याख्या है।
- B. अभिकथन (A) और कारण (R) दोनों सही हैं किन्तु कारण (R), अभिकथन (A) की सही व्याख्या नहीं करता है।
- C. अभिकथन (A) और कारण (R) दोनों सही नहीं है।
- D. अभिकथन (A) गलत है और कारण (R) सही है।

---

SPACE FOR ROUGH WORK / रफ कार्य के लिये जगह

## Original Sequence As per Manuscript

74. Two Statements are given below-  
Statement – I : Education is a social necessity.  
Statement – II : Without education a society cannot attain stability and continuity.  
Choose the correct answer in the context of the above Statements.
- A. Statements I and II both are incorrect.  
B. Statements I and II both are correct.  
C. Statement I is correct but Statement II is incorrect.  
D. Statement I is incorrect but Statement II is correct.

75. Arrange the steps of educational research in sequence-
- (a) Selection of research problem.  
(b) Selection of research method.  
(c) Formulation of research question.  
(d) Data collection and analysis.  
(e) Reporting Result.  
Select the correct answer from the options given below-
- A. (c), (a), (b), (e), (d)  
B. (c), (a), (d), (b), (e)  
C. (a), (b), (d), (c), (e)  
D. (a), (c), (b), (d), (e)

74. नीचे दो कथन दिए गए हैं-  
कथन – I : शिक्षा एक सामाजिक आवश्यकता है।  
कथन – II : शिक्षा के बिना कोई भी समाज स्थिरता और निरन्तरता प्राप्त नहीं कर सकता।  
उपरोक्त कथनों के सन्दर्भ में सही उत्तर का चयन कीजिए।
- A. कथन I और II दोनों असत्य है।  
B. कथन I व II दोनों सत्य है।  
C. कथन I सही है लेकिन कथन II गलत है।  
D. कथन I गलत है लेकिन कथन II सही है।

75. शैक्षिक शोध के चरणों को क्रमानुसार व्यवस्थित कीजिए-
- (a) शोध समस्या का चयन।  
(b) शोध विधि का चयन।  
(c) शोध प्रश्नो का निर्माण।  
(d) आकड़ों का संग्रहण एवं विश्लेषण।  
(e) परिणाम सूचित करना।  
नीचे दिए गए विकल्पों में से सही उत्तर का चुनाव कीजिए-
- A. (c), (a), (b), (e), (d)  
B. (c), (a), (d), (b), (e)  
C. (a), (b), (d), (c), (e)  
D. (a), (c), (b), (d), (e)

---

SPACE FOR ROUGH WORK / रफ कार्य के लिये जगह

## Original Sequence As per Manuscript

76. Organise the method of writing a lesson plan-
- (a) Prior knowledge
  - (b) Learning objective
  - (c) Recapitulation
  - (d) Presentation of the subject matter
  - (e) Homework
- Select the correct option from the options given below-
- A. (a), (b), (d), (c), (e)
  - B. (a), (b), (c), (e), (d)
  - C. (b), (a), (d), (c), (e)
  - D. (c), (b), (a), (d), (e)
77. Arrange the various steps of action research in sequence-
- (a) Make Hypothesis
  - (b) Defining the problem
  - (c) Obtaining evidences
  - (d) Testing hypotheses
  - (e) Generalization
- Select the correct answer from the options given below-
- A. (b), (a), (d), (c), (e)
  - B. (b), (d), (a), (c), (e)
  - C. (a), (b), (c), (d), (e)
  - D. (b), (a), (c), (d), (e)
76. पाठ योजना लेखन की प्रणाली को व्यवस्थित कीजिए-
- (a) पूर्व ज्ञान
  - (b) अधिगम के उद्देश्य
  - (c) पुनरावृत्ति
  - (d) विषय वस्तु की प्रस्तुति
  - (e) गृह-कार्य
- नीचे दिए गए विकल्पों में से सही विकल्प का चुनाव करें।
- A. (a), (b), (d), (c), (e)
  - B. (a), (b), (c), (e), (d)
  - C. (b), (a), (d), (c), (e)
  - D. (c), (b), (a), (d), (e)
77. एक्शन रिसर्च (क्रियात्मक अनुसंधान) के विभिन्न पदों को क्रमानुसार व्यवस्थित कीजिए-
- (a) परिकल्पना बनाना
  - (b) समस्या को परिभाषित करना
  - (c) साक्ष्य प्राप्त करना
  - (d) परिकल्पनाओं का परीक्षण करना
  - (e) सामान्यीकरण
- नीचे दिए गए विकल्पों में से सही उत्तर का चुनाव कीजिए-
- A. (b), (a), (d), (c), (e)
  - B. (b), (d), (a), (c), (e)
  - C. (a), (b), (c), (d), (e)
  - D. (b), (a), (c), (d), (e)

---

SPACE FOR ROUGH WORK / रफ कार्य के लिये जगह

## Original Sequence As per Manuscript

78. Arrange the following in chronological order-
- (a) Mudaliar Commission
  - (b) Dr. Radhakrishnan Commission
  - (c) Ramamurti Review Committee
  - (d) Kothari Commission
  - (e) Prof. Yashpal Committee  
(Learning Without Burden)
- Select the correct answer from the options given below-
- A. (b), (a), (d), (c), (e)
  - B. (a), (d), (b), (c), (e)
  - C. (a), (b), (c), (e), (d)
  - D. (c), (d), (e), (a), (b)
79. Arrange the different stages of Jean Piaget's cognitive development theory in sequence-
- (a) Pre-operational stage
  - (b) Concrete operational stage
  - (c) Sensory motor stage
  - (d) Formal operational stage
- Choose the correct answer from the options given below-
- A. (a), (b), (d), (c)
  - B. (c), (d), (a), (b)
  - C. (c), (a), (b), (d)
  - D. (b), (c), (d), (a)

78. निम्नलिखित को कालक्रम के अनुसार व्यवस्थित कीजिए-
- (a) मुदालियार कमीशन
  - (b) डॉ. राधाकृष्णन कमीशन
  - (c) राममूर्ति समीक्षा समिति
  - (d) कोठारी कमीशन
  - (e) प्रो. यशपाल समिति (शिक्षा बिना बोझ के)
- नीचे दिए गए विकल्पों से सही उत्तर का चुनाव करें-
- A. (b), (a), (d), (c), (e)
  - B. (a), (d), (b), (c), (e)
  - C. (a), (b), (c), (e), (d)
  - D. (c), (d), (e), (a), (b)
79. जीन पियाजे के संज्ञानात्मक विकास सिध्दान्त की विभिन्न अवस्थाओं को क्रमानुसार व्यवस्थित कीजिए-
- (a) पूर्व संक्रियात्मक अवस्था
  - (b) मूर्त संक्रियात्मक अवस्था
  - (c) संवेदी पेशीय अवस्था
  - (d) औपचारिक संक्रियात्मक अवस्था
- नीचे दिए गए विकल्पों में से सही उत्तर का चुनाव करें।
- A. (a), (b), (d), (c)
  - B. (c), (d), (a), (b)
  - C. (c), (a), (b), (d)
  - D. (b), (c), (d), (a)

---

SPACE FOR ROUGH WORK / रफ कार्य के लिये जगह

## Original Sequence As per Manuscript

80. Arrange the step of project method in a sequence-

- (a) Planning of the project
- (b) Choosing and purposing the project
- (c) Evaluation of the project
- (d) Executing the project
- (e) Reporting the project

Select the correct answer from the options below-

- A. (a), (b), (d), (e), (c)
- B. (e), (c), (d), (a), (b)
- C. (a), (b), (d), (c), (e)
- D. (b), (a), (d), (c), (e)

80. परियोजना विधि के विभिन्न पदों को क्रमानुसार व्यवस्थित कीजिए-

- (a) परियोजना का नियोजन
- (b) परियोजना का चयन और उद्देश्य
- (c) परियोजना का मूल्यांकन
- (d) परियोजना का कार्यान्वयन
- (e) परियोजना का अभिलेखन

नीचे दिए गए विकल्पों में से सही उत्तर का चुनाव कीजिए-

- A. (a), (b), (d), (e), (c)
- B. (e), (c), (d), (a), (b)
- C. (a), (b), (d), (c), (e)
- D. (b), (a), (d), (c), (e)

---

SPACE FOR ROUGH WORK / रफ कार्य के लिये जगह

## Original Sequence As per Manuscript

### PART – IV

#### General Hindi

#### सामान्य हिन्दी

81. उच्चारण अवयवों से निकली हुई ध्वनियों को लिखित रूप देने के लिए जो स्वरूप दिया जाता है, उसे कहते हैं-
- A. अक्षर  
B. वर्ण  
C. ध्वनियाँ  
D. लिपि
82. “जिसे किसी से लगाव न हो”, वाक्यांश के लिए एक शब्द होगा-
- (a) निर्लेप  
(b) अलिप्त  
(c) निर्लिप्त  
(d) सुकर
- A. (a) एवं (b)  
B. (a), (b) एवं (c)  
C. (b), (c) एवं (d)  
D. (a), (b), (c) एवं (d)
83. ‘पुनरावलोकन’ में प्रत्यय है-
- A. पुन  
B. पुनर  
C. पुनरा  
D. पुनर्
84. ‘अर्जुन’ का पर्यायवाची नहीं है-
- A. सव्यसाची  
B. गुडाकेश  
C. शुकोदन  
D. धनञ्जय
85. उचित सम्बन्ध जोड़िए-
- (a) सीता ने रोटी खाई (I) आसन्न भूत  
(b) सीता ने रोटी खाई है (II) पूर्ण भूत  
(c) सीता ने रोटी खाई थी (III) संदिग्ध भूत  
(d) सीता ने रोटी खाई होगी (IV) सामान्य भूत
- A. a-IV, b-I, c-II, d-III  
B. a-IV, b-III, c-I, d-II  
C. a-III, b-IV, c-II, d-I  
D. a-I, b-III, c-IV, d-II
86. उसने बुलाया इसलिए मैंने सोचा कि मुझे जाना चाहिए।  
वाक्य में संयोजक है-
- A. उसने  
B. इसलिए  
C. मैंने सोचा  
D. जाना चाहिए

SPACE FOR ROUGH WORK / रफ कार्य के लिये जगह

## Original Sequence As per Manuscript

87. निम्नांकित शब्दों को उचित क्रम में लगाइए-

- (a) थैली के
- (b) बट्टे
- (c) चट्टे
- (d) एक हीं

- A. (a), (c), (b), (d)
- B. (d), (a), (c), (b)
- C. (c), (b), (d), (a)
- D. (d), (a), (b), (c)

88. (a) - लिखित अभिव्यक्ति के लिए सबसे पहले बच्चों को बालू में फिर स्लेट पर चील - बिलैया करने चाहिए।

(b) - ऐसा करने से बच्चे के हाथ में आवश्यक मोड़ आता है।

- A. (a) गलत (b) सही
- B. (a) सही (b) गलत
- C. (a) एवं (b) दोनों सही
- D. (a) एवं (b) दोनों गलत

89. पिता ने कहा बेटी तुम क्या चाहती हो बताओ तो सही।

उपर्युक्त वाक्य में उचित विराम चिह्न युक्त वाक्य होगा-

- A. पिता ने कहा, बेटी तुम क्या चाहती हो। बताओ तो सही।
- B. पिता ने कहा, “बेटी तुम क्या चाहती हो? बताओ तो सही”।
- C. पिता ने कहा बेटी तुम क्या चाहती हो? बताओ तो सही।
- D. पिता ने कहा, बेटी तुम क्या चाहती हो? बताओ तो सही?

90. उचित वर्तनी युक्त शब्द का चयन कीजिए-

- A. सहानुभूती
- B. सहानूभूती
- C. सहानुभूति
- D. सहानूभुति

---

SPACE FOR ROUGH WORK / रफ कार्य के लिये जगह

## Original Sequence As per Manuscript

### PART – V

#### General English

#### सामान्य अंग्रेजी

91. 'The horse who let me win the racing contest is a master athletic.'  
Choose the correct Subordinate Clause-
- A. The Horse  
B. who let me win the racing contest  
C. is a master athletic  
D. The horse who let me win
92. They ----- win the game, but I doubt it.  
(Choose the correct modal)
- A. might  
B. may  
C. can  
D. will
93. Choose the correct one word substitute for-  
A person who knows everything.
- A. reticent  
B. omnipotent  
C. omniscient  
D. philanthropist

Read the following passage and answer the question from question no. 95 to 100.

Rod always used to laugh at the idea of flying saucers. "If there are people in outer," he used to say, "they won't want to come here, will they?" But that was before Rod had a very strange experience. One summer evening, just as he was getting ready to go to bed, Rod heard low humming noise outside, like thousands of bees. He looked out of his bedroom window. In the field at the end of the garden he saw a number of bright objects coming down. As they landed, their lights went out and the field became dark. Rod decided to take a closer look from the wall at the end of his garden. From there he could see the mysterious objects quite clearly. There were twelve of them in all and they were long and thin, like enormous cigars. In the centre of the machines he could just make out a

---

SPACE FOR ROUGH WORK / रफ कार्य के लिये जगह

## Original Sequence As per Manuscript

94. Choose the correct spelling:  
A dish made from eggs, fried with butter or oil in a frying pan.
- A. omlet
  - B. omelet
  - C. Amlet
  - D. Omelette

At that moment the figures began to move back towards their machines. They went inside and the low humming noise began again. One by one the machines lit up. Then the first machine rose into the air, spinning like a wheel. A second one followed it, and then the third. Rod felt terribly sad. The machines were leaving without him! He jumped over the low wall. "Wait!" he shouted. "Take me with you! Please!" But as he rushed forward, a wave of hot air pushed him back and he fell to the ground. When he opened his eyes, the field was empty. Did he really see flying saucers or was it all a dream? Rod is not sure. But these days, when anyone mentions flying saucers, Rod keeps quiet. And he feels very sad, remembering the happy peaceful planet he wanted to go to.

group of figures, all wearing space suits. They appeared to be having a meeting. As he stood there, Rod felt sure that these men were from outer space. Their machines were the famous flying saucers. Rod also felt sure that they came from a quiet, peaceful planet, quite unlike the world he lived in. And he wanted to join them!

97. Rod jumped over the wall because he wanted to-
- A. examine the machines
  - B. go away with the machines
  - C. meet the people in space suits
  - D. smoke cigar with them
98. The correct sequence of the sentences are-
- (I) He wanted to leave with the machines.
  - (II) A wave of hot air pushed him back.
  - (III) He wanted to see the machines more clearly.
  - (IV) The machines were leaving without him.
  - (V) He heard a low humming noise.
- A. (IV), (II), (III), (I), (V)
  - B. (III), (I), (V), (II), (IV)

---

SPACE FOR ROUGH WORK / रफ कार्य के लिये जगह

## Original Sequence As per Manuscript

95. Rod went to the end of the garden because he saw-
- A. some strange objects
  - B. some bees
  - C. some people
  - D. some cigars

- C. (V), (III), (I), (IV), (II)
- D. (II), (I), (V), (IV), (III)

96. The figures in the space suits were-
- A. walking around
  - B. smoking cigar
  - C. standing together and talking
  - D. humming songs

99. Match the following in Column I to Column II.

### Column - I

- (a) Why did Rod look out of his bed-room window?
- (b) Why Rod decided to take a closer look?
- (c) Why Rod wanted to join them?
- (d) Why Rod feels very sad?

### Column - II

- (I) He wanted to go to the happy peaceful planet.
- (II) They had come from a quiet and peaceful planet.
- (III) He heard the humming noise.
- (IV) When the bright objects landed, the field became dark.

- A. a-I, b-II, c-III, d-IV
- B. a-III, b-IV, c-II, d-I
- C. a-IV, b-III, c-II, d-I
- D. a-III, b-II, c-IV, d-I

100. What was Rod's very strange experience?

- A. Rod is not sure whether the flying saucers were real or dream.
- B. Rod saw a number of bright objects.
- C. Rod saw enormous cigar like figures.
- D. Rod saw the machines spinning like wheel.

---

SPACE FOR ROUGH WORK / रफ कार्य के लिये जगह

**Original Sequence As per Manuscript**

**SPACE FOR ROUGH WORK / रफ कार्य के लिये जगह**

---

**SPACE FOR ROUGH WORK / रफ कार्य के लिये जगह**



उत्तर अंकित करने का समय : 02 घंटे अधिकतम अंक : 100

Time for making answers : 02 Hours Maximum Marks : 100

नोट :

1. इस प्रश्न पुस्तिका में 100 प्रश्न हैं। प्रत्येक प्रश्न 01 अंक का है। सभी प्रश्न करने अनिवार्य हैं।
2. प्रश्नों के उत्तर दी गई OMR उत्तर-शीट (आंसरशीट) पर अंकित कीजिए।
3. ऋणात्मक मूल्यांकन नहीं किया जावेगा।
4. किसी भी तरह के कैलकुलेटर या लॉग टेबल एवं मोबाइल फोन का प्रयोग वर्जित है।
5. OMR उत्तर-शीट (आंसरशीट) का प्रयोग करते समय ऐसी कोई असावधानी न करें/बरतें जिससे यह फट जाये या उसमें मोड़ या सिलवट आदि पड़ जाये जिसके फलस्वरूप वह खराब हो जाये।

समाविष्ट भाग / विषयों की विस्तृत जानकारी।

भाग	विवरण	प्रश्नों की संख्या	अंक
I	सामान्य मानसिक योग्यता	30	30
II	सामान्य ज्ञान	20	20
III	शिक्षण अभिरूचि	30	30
IV	सामान्य हिन्दी	10	10
V	सामान्य अंग्रेजी	10	10

**Note :**

1. This question booklet contains 100 questions each question carries 01 mark. All questions are compulsory.
2. Indicate your answers on the OMR Answer-Sheet provided.
3. No negative marking will be done.
4. Use of any type of calculator or log table and mobile phone is prohibited.
5. While using OMR Answer-Sheet care should be taken so that the Answer-Sheet does not get torn or spoiled due to folds or wrinkles.

**Details of Parts/Subjects :**

Part	Particular	No. of Questions	Marks
I	General Mental Eligibility	30	30
II	General Knowledge	20	20
III	Educational Interest	30	30
IV	General Hindi	10	10
V	General English	10	10

**EVENING**

**41\_20462-YKIWZ-JRKJ-ENT-E**

<b>Q. No.</b>	<b>OQID</b>		<b>Q. No.</b>	<b>OQID</b>		<b>Q. No.</b>	<b>OQID</b>
1	JKJ2024001		35	HKJ2024037		69	HKJ2024069
2	JKJ2024002		36	HKJ2024038		70	HKJ2024070
3	JKJ2024003		37	HKJ2024039		71	HKJ2024071
4	JKJ2024004		38	AEAM20231013		72	HKJ2024072
5	JKJ2024005		39	AEAM20233014		73	HKJ2024073
6	JKJ2024006		40	AEAM20232012		74	HKJ2024074
7	JKJ2024007		41	HKJ2024043		75	HKJ2024075
8	JKJ2024008		42	HKJ2024044		76	HKJ2024076
9	JKJ2024009		43	HKJ2024045		77	HKJ2024077
10	JKJ2024010		44	AEAM20232006		78	HKJ2024078
11	JKJ2024011		45	AEAM20232007		79	HKJ2024079
12	JKJ2024012		46	HKJ2024046		80	HKJ2024080
13	JKJ2024013		47	HKJ2024047		81	HKJ2024081
14	JKJ2024014		48	HKJ2024048		82	HKJ2024082
15	JKJ2024015		49	HKJ2024049		83	HKJ2024083
16	JKJ2024016		50	HKJ2024050		84	HKJ2024084
17	JKJ2024017		51	HKJ2024051		85	HKJ2024085
18	JKJ2024018		52	HKJ2024052		86	HKJ2024086
19	JKJ2024019		53	HKJ2024053		87	HKJ2024087
20	JKJ2024020		54	HKJ2024054		88	HKJ2024088
21	JKJ2024021		55	HKJ2024055		89	HKJ2024089
22	JKJ2024022		56	HKJ2024056		90	HKJ2024090
23	JKJ2024023		57	HKJ2024057		91	ANYNYH2024001
24	JKJ2024024		58	HKJ2024058		92	ANYNYH2024002
25	JKJ2024025		59	HKJ2024059		93	ANYNYH2024003
26	JKJ2024026		60	HKJ2024060		94	ANYNYH2024004
27	JKJ2024027		61	HKJ2024061		95	ANYNYH2024005
28	JKJ2024028		62	HKJ2024062		96	ANYNYH2024006
29	JKJ2024029		63	HKJ2024063		97	ANYNYH2024007
30	JKJ2024030		64	HKJ2024064		98	ANYNYH2024008
31	AEAM20232001		65	HKJ2024065		99	ANYNYH2024009
32	AEAM20232002		66	HKJ2024066		100	ANYNYH2024010
33	AEAM20232004		67	HKJ2024067			
34	AEAM20232005		68	HKJ2024068			